

1

Ajut-o pe Ariel să găsească cuvântul care a fost despărțit greșit în silabe!

- A. in-te-re-sant B. inv-en-ți-e C. în-ti-ne-rit D. co-lo-rat

2

Dino a despărțit în silabe cuvântul **explorator**. Câte silabe a numărat?

- A. 1 SILABĂ B. 5 SILABE C. 3 SILABE D. 4 SILABE

3

Trei ursuleți joacă FAZAN.

Primul ursuleț zice **iepure**,
al doilea spune **renume**,
iar al treilea ar putea zice.....

- A. melodios
B. nume
C. repede
D. iederă



4

Rița Veverița a tastat la calculatorul său **Veverițajucăușăzburdăprintre ramurilestejarului.**

Separă cuvintele și vei obține o propoziție.

- A. Veverița zburdă printre ramurile stejarului.
B. Veverița jucăușă zburdă printre ramuri.
C. Veverița jucăușă zburdă printre ramurile stejarului.
D. Veverița jucăușă zburdă prin ramurile stejarului.



5

Aricel trebuie să ordoneze piesele de Lego pentru a forma o propoziție. Ajută-l!

Arici **mere** **culege** **rumene** **Moș** **.**

- A. Moș Arici culege mere rumene.
B. Mere culege Moș Arici rumene.
C. Rumene mere culege Arici Moș.
D. Moș Arici rumene culege mere.

6

Vă rog să mă ajutați,
Bomboanele să le-așezați
Și cuvântul să-l formați!



- A. cale
B. ramele
C. caramele
D. camele

7



Descoperă cuvântul care lipsește din proverbul:

Meseria e brățară de

- A. diamant B. mână C. valoare D. aur

8

Rapunzel vrea să ordoneze alfabetic cuvintele:

trandafir, **zambilă**, **liliac**, **crizantemă**.

O poți ajuta?

- A. trandafir, liliac, crizantemă, zambilă
B. crizantemă, liliac, trandafir, zambilă
C. crizantemă, trandafir, zambilă, liliac
D. liliac, crizantemă, trandafir, zambilă

9

Care este întrebarea cea mai potrivită pentru răspunsul

La școală, elevii învață lucruri interesante. ?

- A. Unde sunt elevii?
B. Cine vine la școală?
C. Ce fac elevii la școală?
D. Cum sunt lucrurile?

10

Ajut-o pe albinuța Maia să găsească cuvântul format după schema: **VCVCVC**.

- A. copăcel B. insectă C. iepuraș D. arici

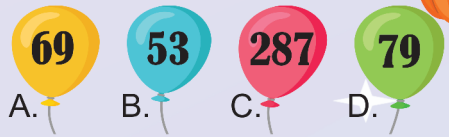
11

Irina trebuie să completeze pătrățelul lipsă cu unul dintre cartonașele cu cifre, astfel încât relația să fie adevărată. Ce cartonaș va alege?

$365 > 3?6$ A. 6 B. 9 C. 8 D. 5

12

Alex îi oferă fratelui său balonul pe care este scris numărul cu suma cifrelor egală cu 15. Care este balonul dăruit?



13

Țopăilă are 6 ani, iar Aricel cu 4 ani mai mulți. Câți ani au împreună cei doi prieteni?

- A. 6 ANI B. 8 ANI C. 10 ANI D. 16 ANI

14

Pe care dintre dovleci este scris un număr mai mare ca 460?



15

Bunicii Marei au cules fructele și le-au așezat în lădițe astfel:



- A. B. C. D.

Care este ordinea descrescătoare a fructelor aranjate în lădițe?

16




Pentru a ajunge la morcovi, Țopăilă trebuie să descifreze un cod secret. Acesta este format din două cifre pare consecutive. Vrei să îl ajuți?

- A. 25 B. 38 C. 46 D. 89



17

Ursulețul Melinte are 46 de borcane cu miere în vizuina sa. Câte îi mai trebuie pentru a avea 70?



18


Iepurilă merge în vizită la Aricel. Numărul casei lui Aricel este predecesorul celui mai mare număr impar scris cu două cifre. Ajută-l pe iepurilă să ajungă cât mai repede la Aricel alegând numărul casei.



19



Ajută-l pe Matei să găsească casa veveriței. Aceasta este...



20

Mama pune apă la fiert pentru ceai. Ea uita ibricul pe foc și îl găsește gol. Unde a dispărut apa?

- A. s-a evaporat B. s-a condensat
C. s-a scurs D. a înghețat